

予習確認プリント

学年：_____ 学籍番号：_____ 名前：_____

・ 全天日射，直達日射，天空日射とはどのようなものか？3者はどのような関係にあるか？

・ 大気放射と地面放射とはそれぞれどのようなものか？

・ 建物や地面に対する日射の受熱量は，季節や方位によってどのような特性があるか？

・ 日射の調節にはどのような方法があるか？

※予習の段階に比べて，授業を聞き終わった段階では，何がわかりましたか？

5 太陽と日射 (教科書 pp. 69~82)

5 日射 (教科書 pp. 76~82)

太陽が放出するエネルギー

→分光分布は、下図を参照。5600K の黒体が発しているスペクトルに近い。

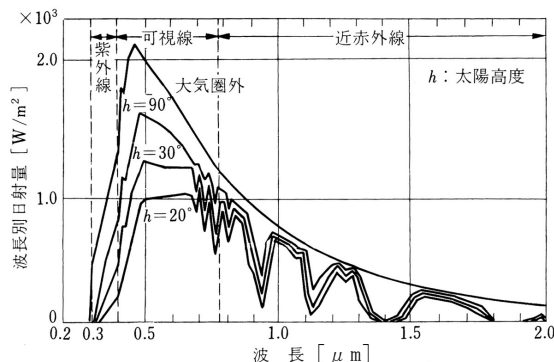


図 太陽光線の分光分布 (出典：参考文献 [1], p. 94)

直達日射量と天空日射量の計算

晴天時の法線面直達日射量と水平面天空日射量は、下の式で計算できる。

→下記で求める値はあくまで計算値であり、実際の値 (測定値) とは異なる。

- ・法線面直達日射量 (J_D , [W/m^2])

(次ページの図も参照のこと。ただし、 J_O と J_D は、下図中では I_O と I_n となっている。)

$$J_D = J_O \cdot P \frac{1}{\sin h} \tag{1} \text{ (ブーグ (Bouguer) の式)}$$

ここで、 J_O : 太陽定数 [W/m^2] →教科書 p. 76 参照

P : 大気透過率 (教科書 p. 76 の③を参照のこと。)

大気の透明度の指標 ($0 < P < 1$ の値を取る)。

季節や場所によっても値が異なる。

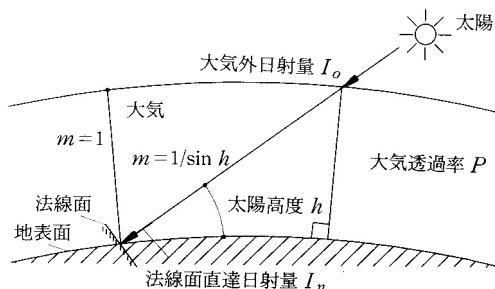


図 直達日射量 (出典：参考文献 [2], p. 99)

・ 水平面天空日射量 (J_s , [W/m^2])

$$J_s = \frac{1}{2} \cdot J_o \cdot \sinh \cdot \frac{1 - P^{\frac{1}{\sinh}}}{1 - 1.4 \cdot \ln P} \quad \langle 2 \rangle \text{ (ベルラーゲ (Berlage) の式)}$$

ここで,

h : 太陽高度 ($[\text{°}]$ もしくは $[\text{rad}]$)

→ 1 度 1 分 1 秒 ($1^\circ 1' 1''$) を単位として角度を表す場合を度数法といい,

π radian (ラジアン, $=180^\circ$) のように「ラジアン」を単位として表す場合を弧度法と言う。

\ln : \log_e ($e (= 2.71828\dots)$ を底とする自然対数) → \log_{10} は底を 10 とする常用対数

$$\frac{1}{\sinh} = \operatorname{cosech}$$

P : 大気透過率 (教科書 p. 76 の③を参照のこと。)

・ (水平面) 全天日射量 (J_H , [W/m^2])

$$J_H = J_D \cdot \sinh + J^{\ddagger} \quad \langle 3 \rangle$$

→ 気象台などで測定されている日射量は一般にこの値

地球放射

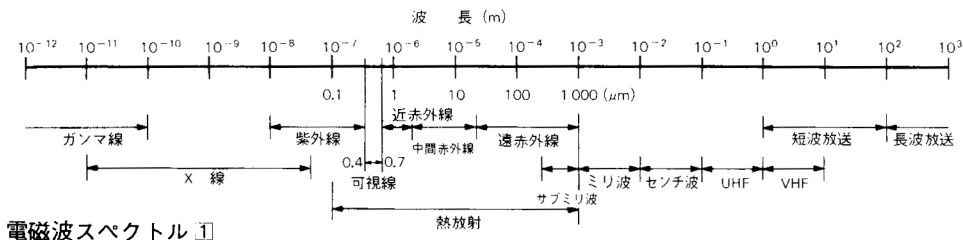
地球は大気に向かって（長波長）放射を行っている。

→約 288K の黒体がエネルギーを発していると考えればよい（下図を参照）。

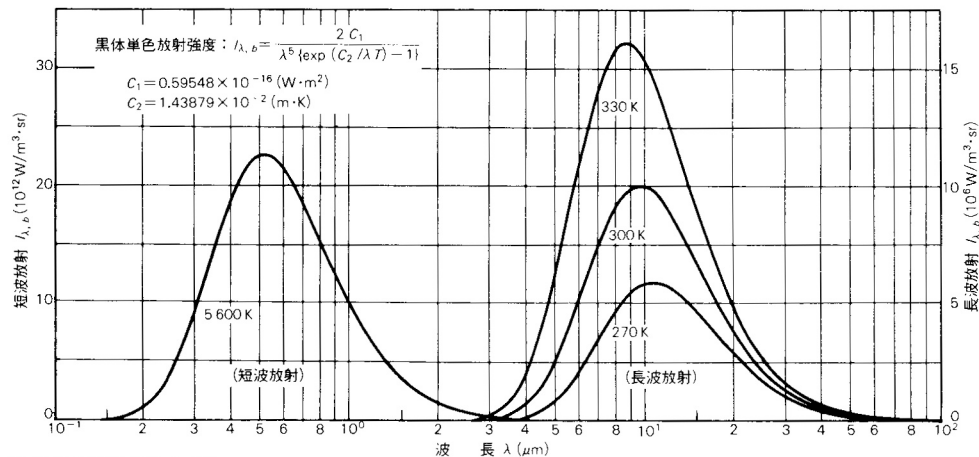
→教科書 p.138 「地球温暖化」も参照。

→→日射（短波長放射）よりも弱いエネルギーを運ぶ。

- ・曇天時には、雲量が多いほど、また雲が低層であるほど、夜間放射量は少ない。



電磁波スペクトル [1]



黒体放射強度分布 [2]

(出典：参考文献 [3], p.100)

光の面に着目した日射の調節 (参考文献 [4], pp.191~192)

昼光を積極的に室内にとりこむための装置として、例えば、下記のようなものがある。

ライトシェルフ：採光窓の中間に設けた庇の上面で昼光を反射させて、室内に光をとこむ。とりこんだ光をさらに天井に反射させて室内の奥の方まで光を導く。

光ダクトシステム：採光部から昼光をとこみ、内面を高反射率鏡面にしたダクトの内部を反射させながら室内の必要な橋余に光を運ぶ。

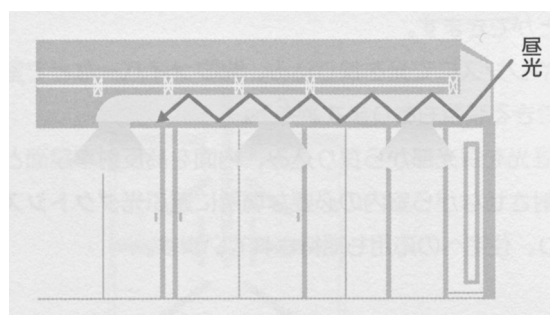
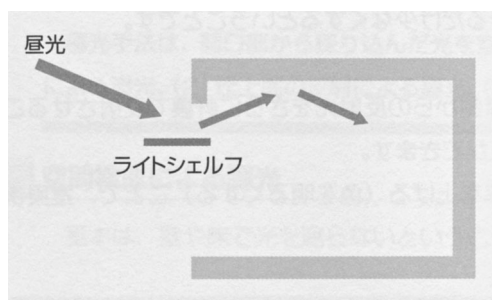


図 ライトシェルフ (出典：(参考文献 [4], p.192) 図 光ダクトシステム (出典：(参考文献 [4], p.192)

【参考文献】(順に、タイトル、編著者名、出版社、発行年月、価格、ISBN。[] 内は熊本県立大学学術情報メディアセンター図書館所蔵情報)。

- [1] 『環境工学教科書 第二版』(環境工学教科書研究会編著, 彰国社, 2000年8月, ¥3,500+税, ISBN: 4-395-00516-0) [開架2, 525.1|Ka 86, 0000275620, 0000308034]
- [2] 『初めての建築環境』(〈建築のテキスト〉編集委員会編, 学芸出版社, 1996年11月, ¥2,800+税, ISBN: 4-7615-2162-7) [開架2, 525.1|Ke 41, 0000216584, 0000216585, 0000216586]
- [3] 『建築設計資料集成 1 環境』(日本建築学会編, 丸善, 1978年6月, ¥7,500+税, ISBN: 4-3352-2313-7924) [開架2, 525.1|KE 41||1, 0000157165, 0000166428] [書庫, 525.08|KE3||1A, 0000064042, 0000086850]
- [4] 『図解入門 よくわかる最新照明の基本と仕組み』(松下進, 秀和システム, 2008年6月, ¥2,000+税, ISBN: 978-4-7980-1976-5) [開架2, 545.61|Ma 88, 0000324889]

学年：_____ 学籍番号：_____ 名前：_____

【演習問題】

熊本（北緯 $32^{\circ} 49'$ ）における，春分の日（3月21日），夏至の日（6月21日）ならびに冬至の日（12月22日）の午前10時（真太陽時）の太陽の高度は，それぞれ 46.2° ， 62.1° ， 26.8° である。それぞれの時の法線面直達日射量，水平面天空日射量ならびに全天日射量を求めよ。なお，太陽定数は， $J_0=1370$ [W/m²] とし，春分の日，夏至の日ならびに冬至の日の大気透過率は，それぞれ 0.65，0.60 ならびに 0.75 とする。